



ERZURUM HAFIZİHO HAFIZ YETİŞTİRME VE AKADEMİK BAŞARIYI DESTEKLEME PROJESİ SEVİYE BELİRLEME SINAVI

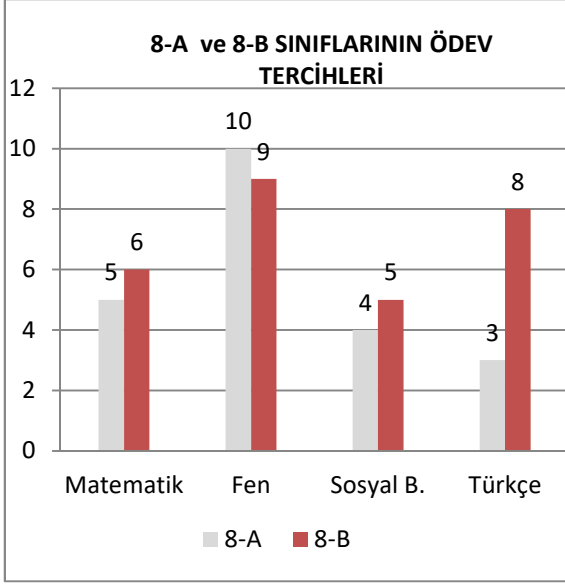
Ad - Soyad :
Okul :
Sınıf - No :

ALANLAR	SORU SAYISI	TOPLAM SORU SAYISI	SÜRE
TÜRKÇE	15	60	80 Dakika
MATEMATİK	15		
FEN BİLİMLERİ	15		
SOSYAL BİLGİLER	8		
DİN KÜL.AH.BİL.	7		

1. Sınav süresince gözetmenlerin uyarılarına dikkat ediniz.
 2. Sınav süresince kitap, sözlük veya elektronik araçları yanınızda bulundurmuyunuz.
 3. Cevap kağıdınızdaki bilgilerin doğruluğunu kontrol ediniz.
 4. Kitapçık üzerindeki ad-soyad, sınıf-no, okul bilgileriniz kodlamayı unutmayınız.
 5. Cevap kağıdınız üzerinde bulunan kitapçık türünü doğru kodladığınızdan emin olunuz.
 6. Sınavın değerlendirilmesi optik okuma araçları ve elektronik ortamda yapılacağından ikili veya toplu kopya çekilmesi tespit edilmektedir. Bu gibi durumlarda sınavınız geçersiz sayılacaktır.
 7. Cevap kağıdı üzerinde kurşun kalemle işaretleme yapınız. Değiştirmek istediğiniz cevabınızı yumuşak silgi ile iz bırakmadan siliniz. Cevap kağıdınızı buruşturmayınız ve katlamayınız.
 8. Soru kitapçığınızı sınav başlamadan kontrol ediniz. Eksik sayfa varsa değiştirilmesini isteyiniz.
 9. Sınav bitiminde cevap kağıdınızı teslim etmeyi unutmayınız. Her sorunun bir doğru cevabı bulunmaktadır.
 10. Başlayınız denilmeden kitapçığınızı açmayınız.
 11. Yanlış cevaplar doğru cevapları götürmemektedir.
 12. **ÖNEMLİ: TC Kimlik numaranızı cevap formu üzerindeki alana dikkatli kodlayınız.**
- © Her hakkı saklıdır. İzinsiz kopyalanamaz, alıntı yapılamaz, yayımlanamaz.

(Sonraki iki soruyu aşağıdaki grafiğe göre cevaplayınız.)

8-A ve 8-B sınıflındaki her öğrenci yalnızca bir dersten ödev almıştır. Geriye ödev almamış hiçbir öğrenci kalmamıştır. Bu öğrencilerin kaçının hangi dersten ödev almak istediği ile ilgili bilgiler aşağıdaki grafikte gösterilmiştir.



1. Grafiğe göre aşağıdakilerden hangisi yanlıştır?

- A) İki sınıfta da en az tercih edilen ders Sosyal Bilgiler dersidir.
- B) 8-A sınıfında Türkçe ve Sosyal Bilgiler tercih edenlerin toplamı aynı sınıftaki Fen tercih edenlerden azdır.
- C) Her iki sınıfta da en çok Fen dersi seçilmiştir.
- D) 8-A sınıfı yalnızca Fen dersini tercihte diğer sınıfı sayıca geçmiştir.

2. Verilen grafikten 8-A ve 8-B sınıflarıyla ilgili aşağıdaki bilgilerden hangisine ulaşamaz?

- A) Matematik dersinden ödev tercih edenlerin toplam sayısı
- B) Ödev seçilen derslerin not ortalamaları
- C) En çok hangi dersten ödev tercih edildiği
- D) Sınıfların ayrı ayrı kaç kişiden oluştuğu

3. "Her zaman bir arada bulunan, arkadaşlık eden kimseler, birbirlerine huy aşılır." anlamında kullanılan bir atasözüdür.

Açıklaması yapılan atasözümüz aşağıdakilerden hangisidir?

- A) Besle kargayı, oysun gözünü.
- B) Tencere dibin kara, seninki benden kara.
- C) Üzüm üzüme baka baka kararır.
- D) Bir elin nesi var, iki elin sesi var.

4. Can sıkıntısı sobeleyemez kimseyi
İçine saklanınca bir kitabın
Çünkü bir kitabın içine bakmak
Hiç aklına gelmez sıkıntının.

Aysel K. EKİZ

Verilen şiirden aşağıdakilerden hangisine ulaşılır?

- A) Kitap okumak can sıkıntısını engeller.
- B) Saklambaç arkadaşlarla oynanmalıdır.
- C) Bir şey ararken kitabın içine bakmak kimsenin aklına gelmez.
- D) Sobeleme oynamak için önce bu oyunu kitabından okumak gerekir.

5. Noktalama işaretleri içinde belki de en çok kullanılanların başında nokta gelir. Nokta; cümlelerin, sıra bildiren sayıların ve bazı kısaltmaların sonuna getirilir.

Noktanın kullanıldığı yerlerle ilgili bu metinde anlatılanlara aşağıdakilerden hangisi örnek gösterilemez?

- A) 14.02.2017 tarihli gazete mi bu?
- B) Eve daha yeni geldim.
- C) Padişah II. Mahmut tarafından yapıldı.
- D) Dr. Mehmet Bey'in hastası mısınız?

6.

- (1) Yavaşça ayakkabısını ayağına giydi ve yola doğru ilerledi.
- (2) Karanlıkta yürürken bir ses işittiğini zannetti.
- (3) Sesin geldiği yöne doğru bakmaya başladı.
- (4) Daha şimdiden içine bir kurt düşmüştü.

Bu cümlelerden hangisinde mecaz bir anlatıma yer verilmiştir?

- A) (1)
- B) (2)
- C) (3)
- D) (4)

7. Sanki yıllardır şoförlük yapıyormuş gibi bir hava takınmıştı. Oysa direksiyon başına geçeli henüz birkaç saat olmuştu. Yine de kendinden emin bir görüntüsü vardı.

Bu metinde geçen mecaz anlamlı ifade aşağıdakilerden hangisidir?

- A) Şoförlük yapmak
- B) Direksiyon başına geçmek
- C) Hava takınmak
- D) Kendinden emin olmak

8. Göçmen kuşlar bir yerden başka bir yere giderken belli bir düzen içinde uçarlar. En öndeki kuş sürekli olarak değişir. Çünkü önde olup rüzgârı yarmak güç gerektirir. Yardımlaşarak uçar kuşlar. İnsanlar da kuşlar gibi olsa ne güzel olurdu.

Metnin sonunda aşağıdakilerden hangisi bulunmaktadır?

- A) Neden sonuç
- B) Karşılaştırma
- C) Benzetme
- D) Soru sorma

9. Dünya bize emanettir. Bu nedenle onu kirletmemek için elimizden geleni yapmalıyız. Örneğin tükenmiş pilleri gelişigüzel doğaya atmamalıyız. Hatta onları çöp kutularına bile atmamalı, ayrı bir yerde toplayıp diğer atıklara karıştırmamalıyız. Çünkü içlerinde bulunan cıva, kurşun, lityum, mangan, nikel, kobalt, kadmiyum gibi kimyasal maddeler son derece zararlıdır. Piller çöpe atıldığı takdirde bu maddeler toprağa ulaşacak ve onun yapısını kullanılamayacak kadar bozacaktır.

Bu metinde en çok aşağıdaki sorulardan hangisinin cevabı verilmektedir?

- A) Kaynakları israf etmemek neden önemlidir?
- B) Bitmiş piller neden çöpe atılmamalıdır?
- C) Pillerin üretim aşamaları nelerdir?
- D) Dünyanın korunması için birbirimizi nasıl uyarmalıyız?

10. Aşağıdakilerden hangisinde "tutmak" sözcüğünün cümlede kazandığı anlam yanlış verilmiştir?

	Cümle	Anlam
A)	Tabanı otuz, otuz beş metre kadar tutar.	Desteklemek
B)	Kucağında kundaklı bir çocuk tutuyordu.	Elde bulundurma, ele almak
C)	Tuttuğumuz balığı tekrar denize döküyoruz.	Avlamak
D)	Siz gelinceye kadar kediyi ben tutarım!	Alıkoymak

11. "kazak - kızak - kazık - kaza - kazı" sözcükleri sözlük sırasına göre doğru sıralanmak istenmektedir.

Bu sözcüklerin doğru sıralamasına göre baştan ikinci sözcük aşağıdakilerden hangisidir?

- A) kaza
- B) kazı
- C) kazak
- D) kızak

12. İnsan başkalarına yardım etmenin tadını bir kere aldı mı bunu bir daha bırakamaz. Çünkü kendisine yardım edilen ihtiyaç sahiplerinin gözlerindeki o mutluluğu gördüğünde içini bir huzur kaplar. Onların sevinçlerine kaynaklık etmenin mutluluğunu yaşar.

Bu parçada işlenen konu aşağıdakilerden hangisidir?

- A) Paylaşmanın yolları
- B) Maddi ihtiyaç çeşitleri
- C) Yardımlaşmanın bireylere etkisi
- D) İslam'ın insan haklarına verdiği önem

13.

1. Durağa vardığında otobüsün gelmesine birkaç dakika olduğunu fark etti.
2. Neden sonra bu durağın yenilenmiş olduğunu fark etti.
3. Evdeydi ve son otobüsü kaçırmamak için çabuk hazırlanmaya çalışıyordu.
4. Eşyalarını aceleyle çantasına koyup kapıdan çıktı.

Numaralanmış cümlelerle anlamlı bir metin oluşturulduğunda sıralama aşağıdakilerden hangisi olmalıdır?

- A) 4 - 3 - 1 - 2
- B) 2 - 1 - 3 - 4
- C) 1 - 4 - 2 - 3
- D) 3 - 4 - 1 - 2

14. (1) Ülkemizdeki şehir sayısı 81'dir. (2) Yüzölçümü açısından en büyük şehir Konuya'dır. (3) Ancak nüfus olarak en çok insan İstanbul'da yaşamaktadır. (4) Deniz kenarındaki şehirlerde yaşayanlar ise denize kıyısı olmayan yerlerdekilere göre daha şanslı.

Bu metindeki numaralandırılmış cümlelerin hangisinde kişisel (öznel) bir görüşe yer verilmiştir?

- A) 1.
- B) 2.
- C) 3.
- D) 4.

15. Akıllı insan kitap okuyan insandır. Her birinde ayrı bir öykü gizlidir. Uzak diyarlarda yaşanmış olaylar, birçok güzel fikir, söz ve cümle vardır içlerinde kitapların.

Metindeki altı çizili kelimelerden hangisinin eş anlamlısı aşağıda yoktur?

- A) Uslu
- B) Irak
- C) Düşünce
- D) Hikâye

Türkçe testi sona ermiştir. Lütfen Diğer Teste Geçiniz.

Cevap Formunuzda Cevaplarınızı Bir Sonraki Bölüme Kodlayınız.

1. Bir satış yerinde buzdolaplarında şöyle bir kampanya düzenlenmişti:



Buzdolabı satış fiyatı: 9250 TL

Baştan 1750 TL peşin verildiğinde sonraki ilk üç ay ödemesiz olacaktır. Sonrasında ise ayda 750 TL taksitle sizin de yeni bir buzdolabınız olabilir.

Buna göre buzdolabının ödemesi kaç ayda tamamlanacaktır?

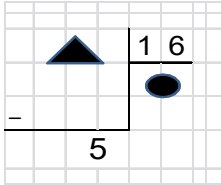
- A) 10
B) 11
C) 12
D) 13

2. Saat tam 09:15'te başlayan bir toplantı sırayla 35, 40 ve 44 dakikalık üç bölüm olarak yapılmıştır. Bölümler arasında da biri 15, diğer 17 dakikalık iki ara verilmiştir.

Buna göre toplantının bitiş zamanı aşağıdakilerden hangisidir?

- A) 10:51
B) 11:16
C) 11:46
D) 12:11

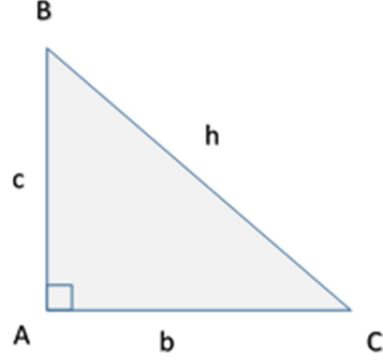
3.



Verilen işlemde kalanın 5 olması için üçgen yerine aşağıdakilerden hangisi gelmelidir?

- A) 39
B) 43
C) 48
D) 53

4.



Yukarıda gösterilen üçgen dik açılı bir üçgendir.

Buna göre bu üçgenin iç açıları aşağıdakilerden hangisi olabilir?

- A) 32°, 52°, 96°
B) 43°, 47°, 90°
C) 32°, 38°, 110°
D) 20°, 40°, 120°

5. Bir meyve bahçesinde 9 sıra şeftali, 3 sıra elma fidanı dikilmiştir. İki meyve türünde de her sırada 18'er fidan dikilmiştir. Ancak ilk yıl şeftali fidanlarının $\frac{1}{6}$ 'sı, elma fidanlarının ise $\frac{1}{9}$ 'u kurumuştur.

Buna göre bahçede kurumayan şeftali ve elma fidanlarının toplam sayısı kaçtır?

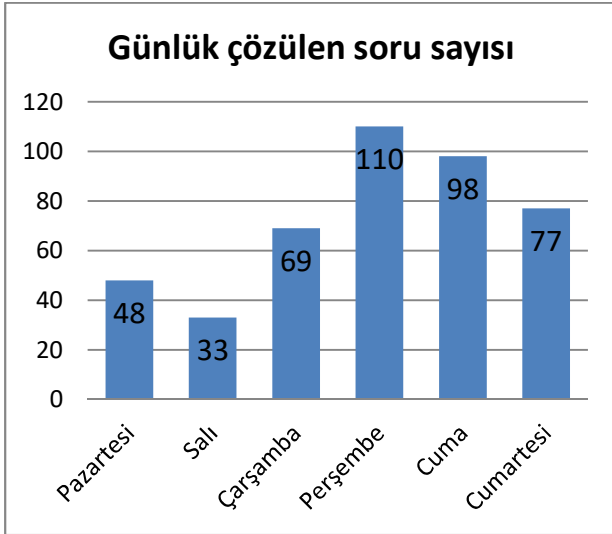
- A) 33
B) 144
C) 183
D) 216

6.

Verilen tablonun kesir olarak $\frac{1}{2}$ şeklinde ifade edilmesi için kaç bölümün daha boyanması gerekir?

- A) 2
B) 3
C) 5
D) 6

7. Verilen grafikte bir öğrencinin haftanın altı günü çözdüğü soru sayısı gösterilmektedir.



Grafiğe göre aşağıdaki ifadelerden hangisi doğrudur?

- A) En çok soru çözümü yaptığı gün Perşembe'dir.
B) Pazartesiden itibaren her gün bir öncekinden daha çok soru çözmüştür.
C) Salı ve Cumartesi günleri çözdüğü toplam soru sayısı Perşembe günü çözdüğü soru sayısını geçmiştir.
D) En çok soru çözümü yaptığı günler haftanın ilk iki günüdür.

8.



Yandaki yapı kaç eş birim küpten oluşturulmuştur?

- A) 8
B) 9
C) 10
D) 11

9. $\frac{X-7}{10}$ ifadesinin basit kesir olması için X yerine gelebilecek en büyük sayı aşağıdakilerden hangisidir?

- A) 19
B) 16
C) 12
D) 11

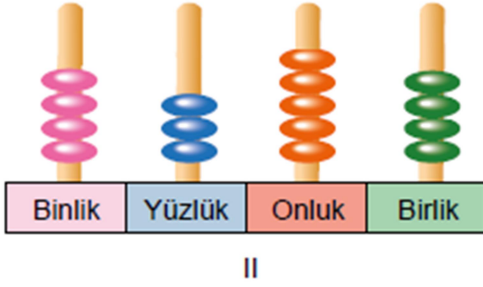
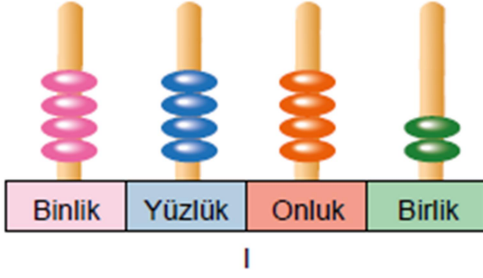
10. Aşağıda her harf bir sayıya denk gelecek şekilde eşleştirilen bir kodlama verilmiştir.

MUHTEMEL → 29345258

Buna göre $ELEM - ALEM = ?$ işleminin sonucunun 4000 olması için A kaç olmalıdır?

- A) 0
B) 1
C) 2
D) 3

11.



Verilen abaküste I ile belirtilen sayıyla II ile belirtilen sayı arasındaki fark aşağıdakilerden hangisidir?

- A) 1088
B) 562
C) 326
D) 88

12. $1296 - 216 - \dots - 6 - 1$

Sayı dizisinde boş bırakılan yere hangi sayı gelmelidir?

- A) 18
B) 36
C) 72
D) 144

13. $26 + 37 + X < 143$

Verilen işlemde X yerine yazılabilecek olan en büyük sayı aşağıdakilerden hangisidir?

- A) 99
B) 89
C) 79
D) 69

14. Bir markette 5 günde toplam 312 adet ekme satılmıştır. En çok ekme ikinci gün, en az ekme ise beşinci gün satılmıştır. Birinci gün 47, üçüncü gün 77, dördüncü gün ise 69 ekme satılmıştır.

Buna göre beşinci gün satılan ekme sayısı en çok aşağıdakilerden hangisidir?

- A) 11
B) 21
C) 31
D) 41

15. Aynı yolu kullanacak iki araç aynı anda İstanbul ve Konya'dan karşılıklı olarak yola çıkarlar. Ortalama 80 km hızla yol alan ilk araç Konya'dan hareket ettikten 4 saat sonra mola verir. Aynı anda İstanbul'dan yola çıkan ikinci araç da 4 saat sonra mola verir. İkinci aracın bu dört saatlik yolcuğundaki ortalama hızı da 90 km'dir. Aslında mola verdikleri yerler birbirine oldukça yakındır. Çünkü mola yerlerinin arasında yalnızca 18 km bulunmaktadır.

Buna göre İstanbul - Konya arasındaki bu yol kaç km'dir?

- A) 688
B) 698
C) 708
D) 718

Matematik testi sona ermiştir. Lütfen Diğer Teste Geçiniz.

Cevap Formunuzda Cevaplarınızı Bir Sonraki Bölüme Kodlayınız.

1. Görselde çöl kumları gösterilmektedir. Temelde kayaç olarak kabul edilen çöl kumları daha iri kayaçların çeşitli nedenlerle parçalanması sonucu oluşmuştur.



Çöl kumlarının oluşmasına neden olan bu etkenler arasında aşağıdakilerden hangisi bulunur?

- A) Sıcaklık farkı
B) Yağmur
C) Akarsu aşındırması
D) İçerdikleri mineraller

2. Yaşamımızı devam ettirmek için ihtiyaç duyduğumuz enerjiyi besinlerden alırız. Hareket etmek, spor yapabilmek için gerekli olan enerji denilince akla gelen ilk besin grubudur. Bu besin grubu ayrıca beynimizin kullandığı tek enerji kaynağıdır.

Metinde aşağıdaki hangi besin grubundan bahsedilmektedir?

- A) Protein
B) Karbonhidrat
C) Vitamin
D) Mineral

3.



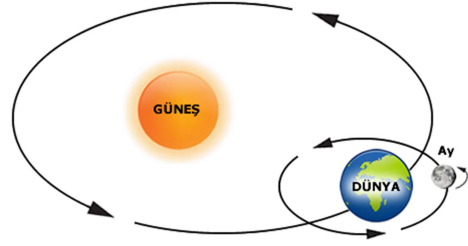
Dünya'da nadir bulunan, Türkiye'de de sadece Elazığ'da çıkarılan vişne mermeri, 60 ülkede seçkin mekânları süslüyor.

Vişne renginde, damarlı yapıya sahip, dekoratif amaçla kullanılan mermer türüdür.

Bu mermerin vişne renginde olmasını sağlayan aşağıdakilerden hangisidir?

- A) İçerdiği mineraller
B) Yerin çok derininden çıkarılması
C) Soğuk iklimde bulunması
D) Gözenekli yapısı

4. Görselde Dünya'nın Güneş çevresindeki dolanımı ile kendi çevresindeki dönüşü gösterilmektedir.



Dünya, Güneş çevresinde bir tam dolanımını tamamlayıp tekrar aynı noktaya geldiğinde kendi çevresinde kaç dönüş gerçekleştirmiş olmalıdır?

- A) 12
B) 30
C) 52
D) 365

5. Oltayla balık tutmak isteyen bir balıkçı aşağıdaki görseldeki gibi iğneleri bağladığı küçük bir iğne takımı yapmıştır.



Bu balıkçı oltasıyla suyun dibinde avlanmak istese aşağıdakilerden hangisini oltasına eklemelidir?

A) Oltta mantarı

B) Plastik şamandıra



C) Oltta kurşunu

D) Tahta parçası



6. Bir kutu içinde gelişi güzel atılmış olan bir miktar cam bilye, plastik ataş, tahta kalem, toplu iğne, tebeşir parçaları bulunmaktadır.

Karışık olarak bulunan bu maddelere mıknatıs yaklaştırıldığında aşağıdaki hangi durum gerçekleşir?

- A) Bilyeler ve tebeşir parçaları birbirinden ayrışır.
B) Karışımdan yalnızca toplu iğneler ayrılır.
C) İğneler ile ataşlar birbirine yapışır.
D) Tahta kalem karışımın üstüne çıkar.

7. Bisiklet yarışı için sırada bekleyen bisikletçiler yarışın başlamasıyla birlikte pedal çevirmeye başlamıştı.



Bu yarışta bisikletçilerin pedal çevirmeleri kuvvetin aşağıdaki hangi etkisine örnektir?

- A) Hızlandırıcı
B) Yavaşlatıcı
C) Yön değiştirici
D) Şekil değiştirici

8. I. Buz, su haline gelirken ısı
II. Su, donarken ısı
III. Su, kaynayıp buhar olurken ısı

Boş bırakılan yerlere sırasıyla aşağıdakilerden hangisi getirilmelidir?

	I	II	III
A)	alır.	verir.	verir.
B)	verir.	alır.	alır.
C)	alır.	verir.	alır.
D)	verir.	alır.	verir.

9. Van'da bulunan Muradiye Şelalesi, genellikle her kış mevsiminde etkili olan soğuk hava nedeniyle donar. Yılın diğer mevsimlerinde akan şelalenin donmuş hali de ziyaretçilerine eşsiz bir manzara sunar.



Şelalenin donması maddenin hal değişimiyle ilgili aşağıdakilerden hangisine örnektir?

- A) Katıdan sıvıya
B) Sıvıdan gaza
C) Gazdan sıvıya
D) Sıvıdan katıya

10. Aydınlatma araçlarından hangisi diğerlerine göre daha eski tarihlerde kullanılmaya başlanmıştır?

A)



B)



C)



D)



11. Kayaçların oluşumu sırasında, yapılarında bulunan maddeler onlara farklı özellik kazandırmıştır. Bu farklı özelliklere göre kayaçlar değişik adlar alır. Kayaçların birbirinden farklı olmasını sağlayan ve yapılarını oluşturan maddelere mineral adı verilir. Bu mineraller sayesinde bazı kayaçlar ekonomik değeri olan madenler olarak kabul edilirler.

Buna göre aşağıdakilerden hangisi içerdiği mineral sayesinde değerli kabul edilen madenlere örnek gösterilemez?

- A) Kurşun kalem ucundaki grafit
- B) Mücevher yapımında kullanılan altın
- C) Ampullerin içindeki tungsten
- D) Fosili oluşturan kemik

12. Besinler içeriğine göre sınıflandırıldığına aşağıdakilerden hangisi proteince zengin besinler grubunda yer alır?

- A) Ispanak
- B) Bal
- C) Balık
- D) Portakal

13. I. Paketi açılmış olsa da besinleri satın alabiliriz.

II. Taze ve doğal besinleri tüketmeliyiz.

III. Son kullanma tarihi geçmiş olan ürünleri tüketmemeliyiz.

IV. Dondurulmuş gıdalardan çözünmüş olanlarını tekrar dondurmaliyiz.

Verilenlerden hangisi besinleri satın alırken veya tüketirken dikkat edilmesi gereken ilkelere göre yanlıştır?

- A) I ve IV
- B) II ve III
- C) I, II ve III
- D) II, III ve IV

14...... yakıt, hidrokarbon ve yüksek oranlarda karbon içeren doğal enerji kaynağıdır. Kömür, petrol ve doğalgaz; bu türden yakıtlar örnek gösterilebilir. Ölen canlı organizmaların oksijensiz ortamda milyonlarca yıl boyunca çözülmesi ile oluşur.

Ölen canlı organizmaların kalıntıları anlamına da gelen ve metinde boş bırakılan kavram aşağıdakilerden hangisidir?

- A) Kayaç
- B) Fosil
- C) Magma
- D) Mineral

15. Günlük program yapmak isteyen bir öğrenci elindeki kâğıdı her bir saat dilimini ifade eden 24 eşit parçaya ayırır. Uyku saatlerini, dinlenme saatlerini kâğıt üzerinde işaretler.

Bu öğrencinin programını yaptığı kâğıdı 24 eşit parçaya ayırması Dünya'nın aşağıdaki hangi özelliği ile ilgilidir?

- A) Kendi eksenini etrafındaki dönüş süresi
- B) Güneş çevresindeki dolanım süresi
- C) Farklı paralellere ayrılmış olması
- D) Kendi eksenini çevresindeki dönüş yönü

Fen Bilimleri testi sona ermiştir. Lütfen Diğer Teste Geçiniz.

Cevap Formunuzda Cevaplarınızı Bir Sonraki Bölüme Kodlayınız.

1. I. Okuma yazmayı ilkokula başlamamın ikinci ayında öğrendim.
II. İki buçuk yaşındayken yemeğimi kendim yemeye başlamışım.
III. İlk rolümü 4. sınıfta yılsonu etkinliğinde sahnelenen tiyatro gösterisinde üstlendim.
IV. Anaokulu günlerim aklımda beni hep gülümseten anılarla doludur.

Yukarıda verilenlerin kronolojik sıralaması aşağıdakilerden hangisidir?

- A) I – II – IV – III
B) IV – I – III – II
C) III – I – IV – II
D) II – IV – I – III

2. Ülkemizde yüzyıllardır "Karaguni" adıyla bilinen bir çocuk oyunudur. Oyuncular, aralarında sayışarak bir ebe belirler. Ebe, yüzünü duvara dönerek yüksek sesle saymaya başlar. Oyunda söylenen sözlerden biri de "so-be" ifadesidir.

Hakkında bilgi verilen geleneksel çocuk oyunumuz aşağıdakilerden hangisidir?

- A) Dalıye
B) Aşık
C) Saklambaç
D) Mangala

3. Her milletin kendine ait kültürel değerleri vardır. Pek çok alanda bir kültüre özgü bu değerler arasında örneğin yemekler de vardır. Kültürler arası etkileşim günümüzde çok hızlı olmaktadır. Farklı kültürel lezzetleri tatmak kötü bir şey değildir. Ancak yine de bazı yiyeceklerin ülkemizde sıkça tüketilmesine rağmen milli kültürümüze ait olmadığı da bilinmelidir. Örneğin ...

Verilen metin aşağıdakilerden hangisi ile devam ettirilmelidir?

- A) Yoğurt
B) Manti
C) Pizza
D) Baklava

4.



Çanakkale Savaşları'nı konu edinen "Seddülbahir 32 Saat" adlı yapım 2016 yılında TRT tarafından dört bölüm halinde yayınlanmıştır.

Bu diziyi izleyenler aşağıdakilerden hangisiyle ilgili bir yapım izlemiş olurlar?

- A) Kurtuluş Savaşımız
B) I. Dünya Savaşı
C) Balkan Savaşları
D) II. Dünya Savaşı

5. Bir tiyatro gösterisinde çocuk oyuncuların birisi seyircilere şöyle sesleniyordu: "Maraş denilince akla ben gelirim. Ben ve benimle birlikte olanlar şehrimizi Fransız ve Ermenilere karşı savunduk. Nice şehitler verdik de vatanımızı çiğnetmedik. Biz de Maraş'ımız da "Kahraman" olduk."

Bu rol Milli Mücadele'mizdeki hangi kahramanımızdan esinlenerek yazılmıştır?

- A) Sütçü İmam
B) Şahin Bey
C) Şehit Kamil
D) Ali Saip Bey





6. Ormanlarımızın korunması ve ağaçlandırma çalışmaları bazı doğal afetlerin önlenmesinde etkilidir.

Ağaçlandırmanın önlediği bu doğal afetler arasında aşağıdakilerden hangisi yoktur?

- A) Sel
B) Heyelan
C) Çığ
D) Deprem

7. Yaşadığımız yerde bulunan unsurlar beşeri ve doğal olarak ikiye ayrılır. Beşeri unsurlar, insan aklı ve emeğinin ürünleridir. Sonradan var edilmişlerdir. Doğal unsurlar ise Allah tarafından yaratılmış olan ve insan yapısı olmayan unsurlardır.

Buna göre aşağıdakilerden hangisi diğerlerinden farklıdır?

- A)  B) 
- C)  D) 

8. Fındık eksperliği adı verilen mesleği seçmeyi düşünen bir kimsenin onu yapabileceği yerleri de önceden bilmesi gerekir.

Bu meslek hangi bölgemizde daha çok tercih edilebilir?

- A) İç Anadolu
B) Güneydoğu Anadolu
C) Ege
D) Karadeniz

**Sosyal Bilgiler testi sona ermiştir.
Lütfen Diğer Teste Geçiniz.**

**Cevap Formunuzda Cevaplarınızı Bir
Sonraki Bölüme Kodlayınız.**

1. Bir gazetede eylül ayı yaklaşırken şöyle yazıyordu: "Balıkçılar son hazırlıklarını yaptılar ve av yasağının bitmesini bekliyorlar. Hep birlikte '..... (Allah'ın adıyla başlarım)' diyecekleri günü iple çekiyorlar."

Balıkçıların "Allah'ın adıyla başlarım" diye söyleyecekleri ifade aşağıdakilerden hangisinde bulunmaktadır?

- A) Hayy'dır Allah
B) Haydi Allahu Ekber
C) Vira Bismillah
D) Tövbe Estağfirullah

2. Peygamberimiz insanların günah işlemekten en çok sakınanı olmasına rağmen her gün pek defa Allah'tan af ve bağışlanma dilemiştir. Bunu da özellikle bizlere örnek olarak gerçekleştirmiştir.

Peygamberimizin bu davranışını örnek almak isteyen bir kimsenin aşağıdakilerden hangisini daha çok söylemesi gerekir?

- A) Bismillah
B) Maşaallah
C) Estağfirullah
D) Allahu ekber

3. Her şeyin Allah'ın (c.c.) bilgisi ve dilemesi ile bir ölçüye göre gerçekleştiğine iman etmektir.

Bu inanç esasları aşağıdakilerden hangisidir?

- A) Ahirete iman
B) Meleklerle iman
C) Kitaplara iman
D) Kadere iman

4. Bir gazetede Müslüman olmak isteyen bir kimse ile ilgili haber yapılmıştı. Habere göre bulunduğu yerin müftülüğüne giden bu kimsenin önce kelime-i şهادet getirmesine yardımcı olunmuş sonra da kendisine ilk iş olarak konuştuğu dilde açıklaması olan bir Kur'an-ı Kerim hediye edilmişti.

Buna göre Müslüman olmak isteyen bir kimsenin söylemesi gereken ifade aşağıdakilerden hangisidir?

- A) Lâilâhe illallah Muhammedün Resulullah
B) Eşhedü en lâ ilâhe illallah ve eşhedü enne Muhammeden abduhû ve resûluh
C) Allahu ekber ve lillahi'l-hamd
D) Allâhümme salli alâ seyyidina Muhammed

5. Her yıl o ay gelince
Heyecan dolar kalplere
Aç susuz olsak bile
Bayramdır gönüllere

Bu dizelerde anlatılan ibadet aşağıdakilerden hangisidir?

- A) Namaz
B) Oruç
C) Zekât
D) Hac

6. Kur'an hafızının muhafızı Kur'an olur.

Bu cümlenin anlamı aşağıdakilerden hangisidir?


- A) Kur'an, kendisini ezberleyeni korur.
B) Kur'an'ı korumak çok zorlu bir iştir.
C) Korumak istediklerimizi Kur'an'la koruruz.
D) Hafızlığın başlangıcı Kur'an'ı korumakla olur.

7. Güzel davranışlı ve iyi huylu kimselere "ahlaklı" veya "güzel ahlaklı" denir. Güzel ahlaklı olmak isteyenlerin kötü davranışlardan da sakınması gerekir. Bununla ilgili Kur'an'da şöyle bir ayet yer almaktadır: "...Muhakkak ki namaz hayâsızlıktan ve kötülükten alıko-yar..." (Ankebût suresi, 45. ayet)

Metinde güzel ahlak sahibi olmak için yapılması gerekenler arasında aşağıdakilerden hangisine dikkat çekilmiştir?

- A) Dua edilmesi
B) Hadislere uyulması
C) Başkalarına yardım edilmesi
D) İbadetlerin yapılması

Sınav sona ermiştir. Cevaplarınızı kontrol etmeyi unutmayınız.



SİDDİK TİVNİKLİ HAFİZ (PROJE) İMAM HATİP ORTAOKULU
2021 YILI ÇIKMIŞ SORULAR

CEVAP ANAHTARI (A KİTAPÇIĞI)

<u>TÜRKÇE</u>	<u>MATEMATİK</u>	<u>FEN BİLİMLERİ</u>	<u>SOSYAL BİLGİLER</u>	<u>DİN KÜLTÜRÜ</u>
1 A	1 D	1 A	1 D	1 C
2 B	2 C	2 B	2 C	2 C
3 C	3 D	3 A	3 C	3 D
4 A	4 B	4 D	4 B	4 B
5 A	5 C	5 C	5 A	5 B
6 D	6 A	6 B	6 D	6 A
7 C	7 A	7 A	7 B	7 D
8 C	8 C	8 C	8 D	
9 B	9 B	9 D		
10 A	10 B	10 B		
11 C	11 D	11 D		
12 C	12 B	12 C		
13 D	13 C	13 A		
14 D	14 D	14 B		
15 A	15 B	15 A		